

Добрый день, уважаемые родители!

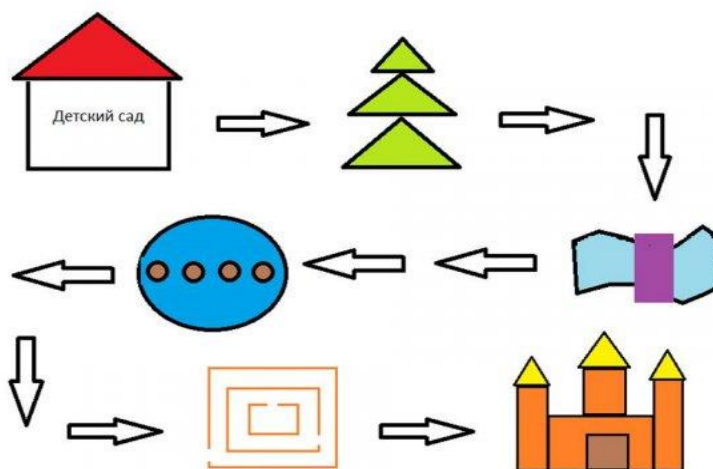
Предлагаем Вам дистанционное задание по ФЭМП

на тему «» на 8.12.2023 г

Сегодня мы отправимся в гости к Королеве Знаний. А живет она в волшебной «Стране Математики». Королева ждет нас и прислала нам цифры и карту, чтобы мы не заблудились.

Давайте внимательно посмотрим на карту.

Сначала мы должны пройти Геометрический лес, потом перебраться через реку Бесконечности по мосту, затем через болото Знаний, долину Головоломок и попасть в Замок Знаний.



Ну что постараемся справиться со всеми трудностями? Давайте сначала проверим готовы ли вы к трудностям

1. Сколько носов у трех котов?
2. Сколько ушей у двух мышей?
3. Сколько пальцев на одной руке?
4. Какой сегодня день недели?
5. Сколько раз в году бывает день рождения?
6. Сколько углов в треугольнике?
7. Сколько дней в одной неделе?
8. Что бывает раньше: утро или вечер?
9. Вечером встает луна – Сколько в небе лун? (одна – 1)
10. Яблоко круглое или треугольное?

Ну молодцы! Тогда в путь. Первое препятствие на карте «геометрический лес». Будьте внимательны здесь!

Геометрический лес

Мы попали в загадочный лес. Посмотрите пожалуйста из каких геометрических фигур состоит наш лес (*треугольник, круг, овал*). А теперь давайте посчитаем и ответ покажем цифрами:

- сколько всего деревьев в лесу
 - сколько елочек;
 - сколько солнышек;
 - сколько грибов
 - сколько больших треугольников;
 - а маленьких;
 - сколько треугольников зеленого цвета;
 - что здесь лишнее? (*лужа, болото*)
- Почему? (*не геометрическая фигура*)



Ну молодцы! Отправляемся дальше. И на пути у нас:

Болото знаний – следующее задание:

1. Четыре овечки на травке лежали,
Потом две овечки домой убежали.
А ну-ка, скажите скорей:
Сколько овечек теперь? (2).
2. Я рисую Кошкин дом:
Три окошка, дверь с крыльцом.
Наверху ещё окно, чтобы не было темно.
Посчитай окошки.
В домике у кошки. (4)
3. Пять пушистых кошек
Улеглись в лукошке.
Тут одна к ним прибежала,
Сколько кошек вместе стало? (6)
4. Шесть цветочков у Наташи,
И ещё два дал ей Саша.
Кто тут сможет счесть,
Сколько будет два и шесть? (8)

Ура! Мы справились. Все перебрались через болото? Вы, наверное устали, пройдем на сказочный луг и отдохнем:

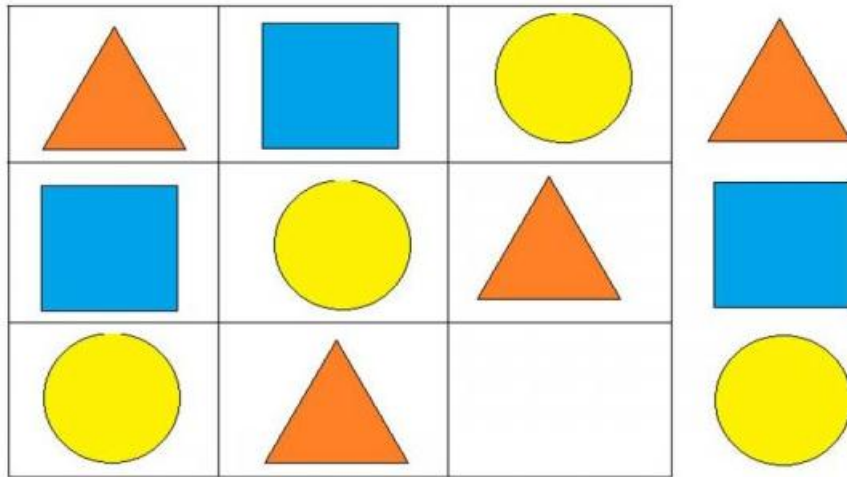
Физкультминутка «На лугу»

Перед нами луг широкий (развели руки в стороны)
А над нами лес высокий (руки вверх)
Слева сосны (руку влево)
Справа ели (руку вправо)
Головами зашумели (махи руками над головой)
Вдруг ударил сильный гром, (хлопки перед собой)
Побежали быстро в дом.

Отдохнули, пора возвращаться домой

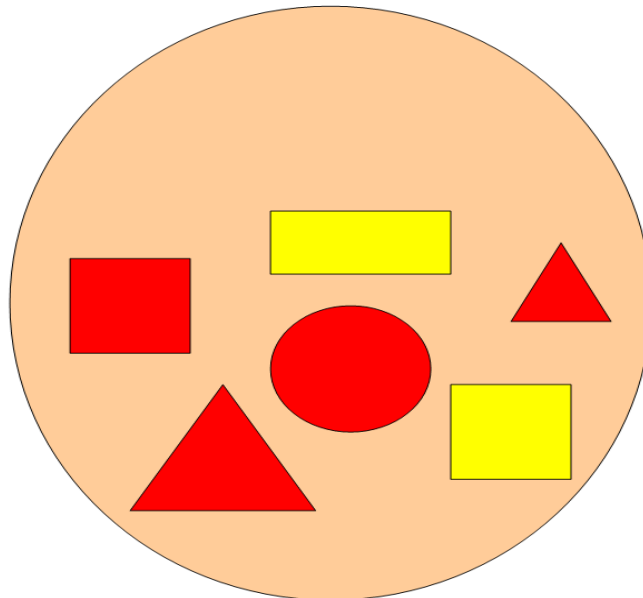
Следующий пункт на карте «Долина головоломок».

Будьте внимательны, скажите какой фигуры не хватает?



Какие геометрические фигуры вы видите? Есть ли здесь одинаковые фигуры? Сравните их, и скажите, чем они похожи, что есть общее? (сравнение по форме, цвету, величине)

Чем фигуры отличаются? Как вы считаете, какая фигура лишняя? (круг – не имеет углов)



«Сравни числа»

Математические знаки просят помощи. Они забыли зачем они нужны? Помогите, что показывают эти знаки? Как они называются? (нужны, чтобы сравнивать числа, а называются знаки - больше, меньше, равно) Родители, вам нужно выписать цифры на листочек и дети должны сравнить числа, поставить в клеточках нужные знаки.

4	5	9	9	5	6
3	2	6	7	1	2

Молодцы! Вы справились со всеми заданиями!

Вот мы и добрались до Замка знаний. Понравилось вам путешествие? Где мы были? Что делали? Что больше всего понравилось? С чем труднее всего было справиться?



Спасибо за внимание!